



1 сентября!?!

Первый урок математики в 5 классе



Наши гости:





Математика – самая древняя из наук, она была и остается необходимой людям. Слово «математика» греческого происхождения. Оно обозначает «наука», «размышление».

Математику уже затем учить надо, что она ум в порядок приводит.

М.В. Ломоносов



**Расположите числа
в порядке
возрастания:**


- 15, 51, 7, 70, 2, 13, 1, 9, 10, 99

Правильный ответ:

- 1, 2, 7, 9, 10, 13, 15, 51, 70, 99
- **Объясните, что обозначает каждая цифра в записи чисел**
- **На какие две группы можно разделить данные числа**



- Назовите последующее число 15, 70
- Как получить последующее число
- На сколько последующее число больше предыдущего?
- Какие числа стоят между 2 и 9, 70 и 99 ?



*Восстановите
порядок чисел*

9, 10, ..., 12, ..., ..., 15, ... 17.

88, 89, ..., 91, ..., ..., 94, ..., 96, ..., 98.

Правильный ответ

9, 10, 11, 12, 13, 14, 15, 16, 17.

88, 89, 90, 91, 92, 93, 94, 95, 96, 97, 98.



У Матроскина было несколько монет. На каждой монете по одному заданию. Выполните их самостоятельно:

Уменьши на 6 каждое число: 11, 19, 23, 84.

Увеличь на 7 каждое число: 18, 27, 36, 58.

Запиши и вычисли сумму и разность чисел 50 и 20. Узнай на сколько их сумма больше, чем разность.

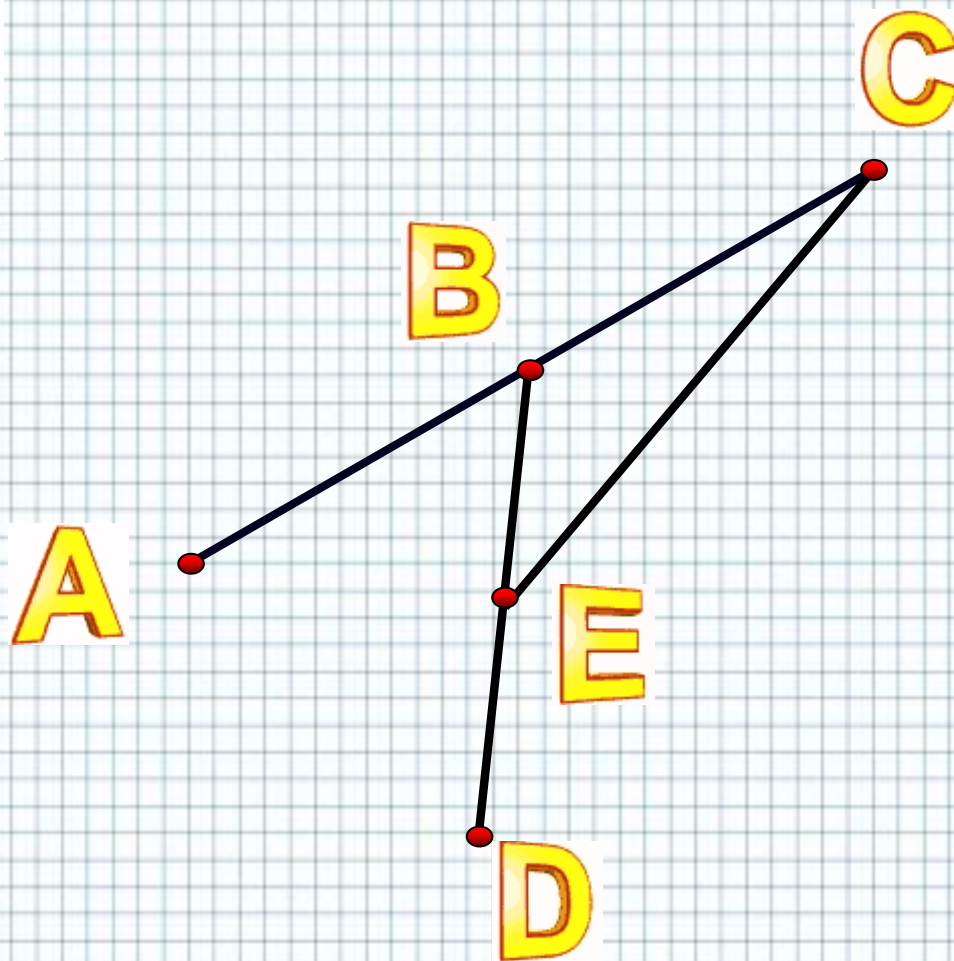


Физминутка:





Сколько отрезков на
чертеже:






*Какие геометрические
фигуры представлены
на слайде?:*

*Сколько фигур
каждого вида?:*





Первый отечественный учебник по математике вышел в 1703 год. Леонтий Филиппович Магницкий издал "Арифметику". По ней учился М. В. Ломоносов, называвший этот учебник "воротами учёности".



По этому учебнику мы будем изучать математику в 5 классе.



Решите задачу в стихах:

Белочка грибы сушила.
Только посчитать забыла.
Белых было 25,
еще масляток 5.
Лисичек и 2 лисички,
ответ готов?
Сколько было всех грибков?

Ответ:

Было книжек 25,
Да доставили к ним 5.
А потом 2 книжки взяли
И учащимся отдали.
Подумать, надо очень мало
Помогите: Сколько стало?

Ответ: 28



Реши задачу:



На пасеке было 20 ульев.
Через год число ульев
увеличилось на 7. Сколько
ульев стало на пасеке через
год?

26, 27, 28

Сестре 22 года, она старше
брата на 2 года. Сколько лет
брату?

20, 21, 24.

Если сумму чисел 7 и 6
уменьшить на 8, то сколько
получится?

4, 5, 6


Домашнее задание:




Стр. 3 учебника, №5, №6



**На уроке тебе все было
интересно и понятно.
Ты был активным.**



**На уроке тебе что-то
мешало быть активным.
Что-то осталось для тебя
непонятным.**



**На уроке тебе было
скучно и неинтересно.
Ты не проявлял
никакой активности.**

A vibrant autumn-themed illustration. In the top right, a brown squirrel with a red scarf is taking a photo with a black camera. In the top left, a colorful bird with green, red, and black feathers is perched on a branch. In the bottom left, Jerry the mouse from Tom and Jerry is wearing a red winter hat and scarf, playing a yellow acoustic guitar. The background is a dense forest of trees with yellow and orange autumn leaves. A large white banner with a floral border is in the center, containing the text. A ladybug is visible in the bottom right corner.

Дорогие ребята!
Я желаю Вам
успехов и удачи в
изучении
МАТЕМАТИКИ!!!

AR